

Сколько всего деревьев ты видишь?
Сколько гнезд?

Чего больше: гнезд или деревьев?

На полянке в лесу распустилось 5 подснежников, а на следующее утро — еще 3 подснежника. Сколько всего подснежников распустилось?

$$\square + \square = \square$$

Петя подошел к небольшому пруду и увидел, что на кочке сидят лягушки и хором распевают — «ква-ква». Заметив мальчика, лягушки испугались: 2 лягушки тут же прыгнули в разные стороны, а 3 замерли неподвижно под его пристальным взглядом. Сколько лягушек было на кочке?

$$\square + \square = \square$$

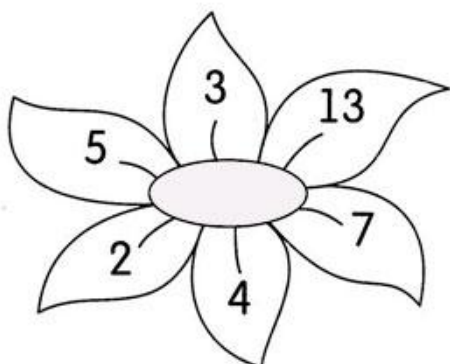
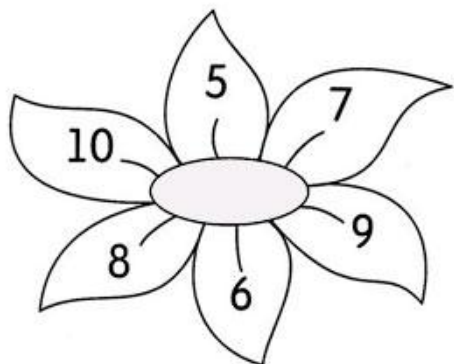
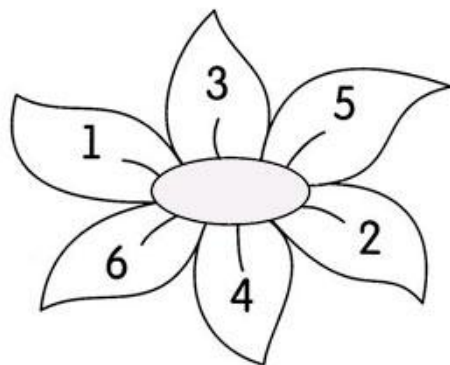

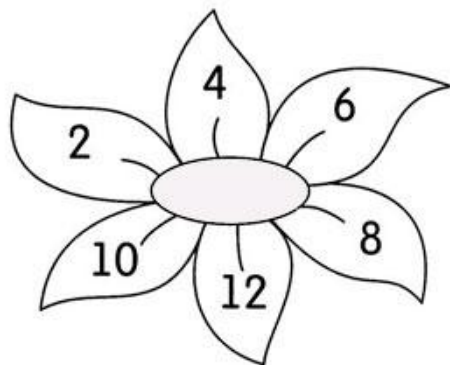

Сколько пчел летают над цветами?
Сколько всего домашних животных на картинке?

Сколько растет сиреневых первоцветов?

Ваня запустил в ручей 4 бумажных кораблика, а Маша на 3 меньше. Сколько всего корабликов отправилось в дальний путь?

$$\square - \square = \square$$

14. На каждом цветке раскрась красным цветом лепесток с самым большим числом и жёлтым – с самым маленьким



Познавательно-исследовательская деятельность. Презентация «Первоцветы» и мультфильм «Первоцветы».

Видео по ссылкам: <https://youtu.be/HXZeP9hGEms> , <https://youtu.be/-PciJPPUDWE>